

ตัวอย่างข้อสอบด้านการรู้เรื่องการอ่าน

(Reading Literacy)

ไขหวัด

โครงการให้พนักงานสมัครใจสร้างภูมิคุ้มกันไขหวัด ของบริษัททองไทย



เราทราบกันดีว่า ไขหวัดติดต่อได้ง่าย และรุนแรงในฤดูหนาว ทำให้ผู้ป่วยหายาก

วิธีที่ดีที่สุดในการต้านไวรัสไขหวัด คือ ทำให้ร่างกายแข็งแรงและมีสุขภาพดี การออกกำลังกาย ทุกวัน และการกินอาหารที่มีประโยชน์ที่มีผักและผลไม้มากมาย จะช่วยให้ระบบภูมิคุ้มกันในร่างกายสามารถต่อสู้และป้องกันการคุกคามของไวรัสชนิดนี้ได้

ทองไทยตัดสินใจเปิดโอกาสให้พนักงานทุกคนได้รับภูมิคุ้มกัน เพื่อเป็นอีกวิธีหนึ่งที่ใช้ป้องกันการแพร่กระจายของเชื้อไวรัสระหว่างบุคคล ทองไทยจัดพยาบาลฉีดวัคซีนให้ที่บริษัทในช่วงครึ่งวันของเวลาทำการของสัปดาห์ที่เริ่มจากวันที่ 17 พฤษภาคม โครงการนี้เป็นบริการฟรีแก่พนักงานทุกคน

โครงการนี้เป็นโครงการตามความสมัครใจ พนักงานที่เข้าร่วมโครงการต้องลงชื่อแสดงความยินยอม เพื่อแสดงว่า ไม่เป็นภูมิแพ้ และแจ้งให้ทราบว่า การฉีดวัคซีนครั้งนี้ อาจเกิดผลข้างเคียงบ้างเล็กน้อย

คำแนะนำทางการแพทย์ระบุว่า การให้ภูมิคุ้มกันนี้ไม่ทำให้เป็นไขหวัดใหญ่ อย่างไรก็ตาม อาจเกิดผลข้างเคียงบ้าง เช่น เมื่อยล้า มีไข้เล็กน้อย และแขนไม่มีกำลัง

ใครควรได้รับภูมิคุ้มกัน?

ผู้ที่สนใจป้องกันตนเองจากเชื้อไวรัส

โดยเฉพาะผู้สูงอายุที่มีอายุมากกว่า 65 ปีขึ้นไป แนะนำให้สร้างภูมิคุ้มกัน

ยกเว้น **ผู้ใดก็ตาม**ที่เป็นโรคเรื้อรังที่ทำให้สุขภาพอ่อนแอ โดยเฉพาะอย่างยิ่งคนที่เป็นโรคหัวใจ หลอดลมอักเสบ หรือเบาหวาน ไม่ว่า อายุเท่าใด ในสภาพแวดล้อมของทำงาน **ทุกคน**เสี่ยงต่อการติดเชื้อหวัด



ใครไม่ควรได้รับภูมิคุ้มกัน?

ผู้ที่แพ้อาหารประเภทไข่ คนที่เป็นไข้ตัวร้อนเฉียบพลัน และสตรีมีครรภ์

โปรดปรึกษาแพทย์ หากท่านกำลังอยู่ในระหว่างการบำบัดด้วยยาใดๆ หรือเคยมีปฏิกิริยาต่อการฉีดยาแก้หวัดมาก่อน



ถ้าท่านต้องการได้รับภูมิคุ้มกัน ในสัปดาห์ที่เริ่มจากวันที่ 17 พฤษภาคม โปรดแจ้งฝ่ายบุคคล ที่คุณวินัส รื่นรัมย์ ภายในวันศุกร์ที่ 7 พฤษภาคม การนัดวันเวลาจะทำตามช่วงที่พยาบาลว่าง จำนวนคนที่ต้องการรับภูมิคุ้มกัน และเวลาที่พนักงานส่วนใหญ่สะดวก อย่างไรก็ตามถ้าท่านต้องการได้รับภูมิคุ้มกันสำหรับฤดูหนาวนี้แต่ไม่สะดวกในวันที่กำหนด โปรดแจ้งคุณวินัส เพื่อจะได้จัดวันและเวลาอื่นแทน ถ้ามีผู้เข้าร่วมจำนวนมากพอ

ถ้าท่านต้องการทราบรายละเอียดเพิ่มเติม โปรดติดต่อคุณวินัส ต่อ 5577

วินัส รื่นรัมย์ เจ้าหน้าที่ฝ่ายบุคคลของบริษัททองไทย เดริอิมไบพลิวข้อมูล 2 หน้า ดังกล่าว สำหรับพนักงานบริษัท

คำถามที่ 1 : ไขหวัด

ข้อใดต่อไปนี้ กล่าวถึงวิธีการของโครงการสร้างภูมิคุ้มกันไขหวัดของบริษัททองไทย

1. จะมีการจัดการออกกำลังกายอย่างสม่ำเสมอในช่วงฤดูฝนนี้
2. จะมีการฉีดวัคซีนให้ในช่วงเวลาทำงาน
3. ผู้เข้าร่วมโครงการจะได้รับรางวัลเป็นการตอบแทน
4. แพทย์จะดำเนินการฉีดวัคซีน

คำถามที่ 2 : ใช้หัวด

เราสามารถดูเนื้อหาของบทความ (กล่าวถึงอะไร)

เราสามารถดูรูปแบบ (วิธีที่นำเสนอ)

คุณวิ้นต้องการให้รูปแบบของเอกสารดูเป็นกันเอง ในขณะที่เดียวกันต้องการเชิญชวนพนักงานด้วย ท่านคิดว่าเธอประสบความสำเร็จหรือไม่

จงอธิบาย โดยอ้างอิงรายละเอียดของการจัดวางข้อความ แบบวิธีการเขียน การวางภาพ หรือลายเส้นต่างๆ

.....

.....

.....

คำถามที่ 3 : ใช้หัวด

ใบปลิวนี้ชี้ให้เห็นว่า ถ้าท่านต้องการป้องกันตัวเองจากไวรัสไข้หวัด การฉีดภูมิคุ้มกันไข้หวัดนั้น เป็นจริงในข้อใด

1. ได้ผลดีกว่าการออกกำลังกายและการกินอาหารที่มีประโยชน์ แต่มีความเสี่ยงสูงกว่า
2. เป็นความคิดที่ดี แต่ไม่ใช่การแทนการออกกำลังกายและการกินอาหารที่มีประโยชน์
3. ได้ผลเช่นเดียวกับการออกกำลังกาย และการกินอาหารที่มีประโยชน์ และมีความยุ่งยากน้อยกว่า
4. ไม่คุ้มค่า ถ้าท่านออกกำลังกายเป็นประจำอยู่แล้วและกินอาหารที่มีประโยชน์

คำถามที่ 4 : ใช้หัวด

นักเรียนเห็นด้วยกับคำแนะนำที่ว่า ข้อความนี้ทำให้เข้าใจผิด และควรตัดออกหรือไม่ เพราะเหตุใด จงให้เหตุผลอธิบายคำตอบของท่าน

.....

.....

.....

.....

คำถามที่ 5 : ใช้หัวด

จากใบปลิว พนักงานใดต่อไปนี้จะควรติดต่อคุณวินัส

1. เกียรติศักดิ์ จากแผนกคลังสินค้า ไม่ต้องการฉีดวัคซีนเพราะเขาต้องการสร้างภูมิคุ้มกันตามธรรมชาติ
2. ปวีณา จากฝ่ายขาย อยากทราบว่าโครงการภูมิคุ้มกันเป็นโครงการที่บังคับทุกคนต้องเข้าร่วมหรือไม่
3. ดารารัตน์ จากฝ่ายรับส่งเอกสาร ต้องการสร้างภูมิคุ้มกันในฤดูหนาวนี้ แต่จะคลอดลูกภายในอีก 2 เดือนนี้
4. น้ำฝน จากแผนกบัญชี ต้องการรับภูมิคุ้มกัน แต่ได้ลางานไว้ตลอดสัปดาห์ที่เริ่มด้วยวันที่ 17 พฤษภาคม

รอยพับสืบนก้าแพง

<p>ฉันเดี๋ยวดลาลไปด้วยความโกรธที่เห็นก้าแพงโรงเรียนต้องถูกทำความสะอาดและทาสีใหม่ถึงสี่ครั้งเพื่อลบรอยพับสืบนก้าแพง การสร้างสรรค์เป็นสิ่งที่น่าชมเชยก็จริงอยู่ แต่มนุษย์ควรจะหาวิธีการแสดงออกที่ไม่ต้องทำให้สังคมเดือดร้อนและสูญเสียค่าใช้จ่ายเพิ่มโดยไม่จำเป็น</p> <p>ทำไมคุณชอบทำลายชื่อเสียงของคนวัยรุ่นหนุ่มสาวด้วยการไปพับสืบนก้าแพง ซึ่งเป็นข้อห้าม ศิลปินมืออาชีพนะ เขาไม่แฉวงงานของเขาตามข้างถนนหรอก จริงไหม แต่เขาจะหาเงินและชื่อเสียงโดยการแสดงนิทรรศการผลงานอย่างถูกต้องตามกฎหมาย</p> <p>ในความเห็นของฉัน ไม่ว่าจะเป็นตัวตึก รั้ว ม้านั่งในสวนสาธารณะ ต่างก็ถูกออกแบบมาอย่างมีศิลปะในตัวเองแล้วทั้งนั้น มันน่าเสียดายที่จะไปทำลายงานสถาปัตยกรรมนี้เสีย ด้วยรอยพับสื และยิ่งกว่านั้น วิธีนี้ยังทำลายหินโอโซนในบรรยากาศอีกด้วย จริงๆ นะ ฉันไม่เข้าใจเลยว่าทำไมศิลปินอาชีพกรรมเหล่านี้จะรู้สึกเดือดร้อนเมื่อเห็นว่ "งานศิลปะ" ของพวกเขาถูกฉีกออกครึ่งแล้วครึ่งเล่า</p> <p style="text-align: right;">เกวลิน</p>	<p>ไม่ต้องพูดถึงเรื่องรสนิยม ทุกวันนี้สังคมเต็มไปด้วยการสื่อสารและการโฆษณา ตามถนนมีแต่ตราของบริษัท ชื่อห้างร้าน โปสเตอร์ขนาดมโหฬาร สิ่งเหล่านี้เป็นสิ่งที่ยอมรับได้ใช่ไหม ใช่ ส่วนใหญ่ยอมรับกันได้ แล้วรอยพับสืบนก้าแพงล่ะ ยอมรับกันได้ไหม บางคนก็บอกว่าได้ บางคนก็บอกว่าไม่ได้</p> <p>ใครเป็นคนจ่ายค่าพับสืบนก้าแพง ในที่สุดใครเป็นคนจ่ายค่าโฆษณา ไซ้บูบรีโกดโง๊ะ</p> <p>คนที่เอาแผ่นป้ายโฆษณามาเที่ยวแปะล่ะ เคยชออนุญาตไหม ก็ไม่เคย พวกพับสืบนก้าแพงทำเช่นนี้บ้างได้ไหม มันไม่ใช่แต่เรื่องของการบอกชื่อของตัวเอง-ชื่อแก๊ง และผลงานศิลปะชิ้นใหญ่ๆ ตามข้างถนน</p> <p>ลองนึกถึง ผ้าลายทาง และลายดอกหมากรุก ที่มีขายตามร้านเมื่อสองสามปีก่อน และลายเสื้อผ้านักเล่นสกี ทั้งลายและสีของผ้าเหล่านี้ก็ถูกขโมยมาจากลายที่ตกแต่งไว้อย่างสวยงามบนก้าแพงคอนกรีตตามข้างถนนนั่นเอง ตกลกดีที่ลวดลายเหล่านี้เป็นที่ยอมรับ และชื่นชม แต่รอยพับสืบนก้าแพงซึ่งเป็นแบบเดียวกันกลับถูกมองเห็นว่าทุเรศ</p> <p>โลกนี้มันช่างยากนักสำหรับศิลปิน</p> <p style="text-align: right;">โสภิตา</p>
--	--

จดหมายสองฉบับนี้เกี่ยวข้องกับเรื่องรอยพับสืบนก้าแพง ที่ได้มาจากอินเทอร์เน็ต รอยพับสืบนก้าแพงเป็นการวาดภาพ และขีดเขียนบนก้าแพงที่ผิดกฎหมาย ให้นักเรียนอ้างอิงจดหมายทั้งสองฉบับในการตอบคำถามต่อไปนี้

คำถามที่ 1 : รอยพับสืบนก้าแพง

จุดประสงค์ของจดหมายทั้งสองฉบับ เพื่อ

1. อธิบายว่ารอยพับสืบนก้าแพงคืออะไร
2. แสดงความคิดเห็นต่อรอยพับสืบนก้าแพง
3. แสดงให้เห็นความนิยมของรอยพับสืบนก้าแพง
4. บอกผู้คนที่รู้ว่าต้องใช้เงินมากเท่าไรในการกำจัดรอยพับสืบนก้าแพง

คำถามที่ 2 : รอยพับสืบนก้าแพง

ทำไมโสภิตาจึงอ้างถึงการโฆษณา

.....

.....

คำถามที่ 3 : รอยพ่นสีบนกำแพง

นักเรียนเห็นด้วยกับจดหมายฉบับใด จงอธิบายโดยใช้คำพูดของนักเรียนเอง

.....

.....

คำถามที่ 4 : รอยพ่นสีบนกำแพง

เราอาจพูดถึง สิ่งที่จดหมายพูดถึง (เนื้อหาของจดหมาย)

เราอาจพูดถึง วิธีการเขียนจดหมาย (ลักษณะการเขียน)

ถ้าไม่คำนึงถึงว่านักเรียนเห็นด้วยหรือไม่เห็นด้วยกับจดหมายฉบับใด ในความคิดของนักเรียน คิดว่าจดหมายฉบับใด ดีกว่ากัน ให้อธิบายโดยอ้างอิงถึงวิธีการเขียนจดหมายฉบับใดฉบับหนึ่ง หรือทั้งสองฉบับ

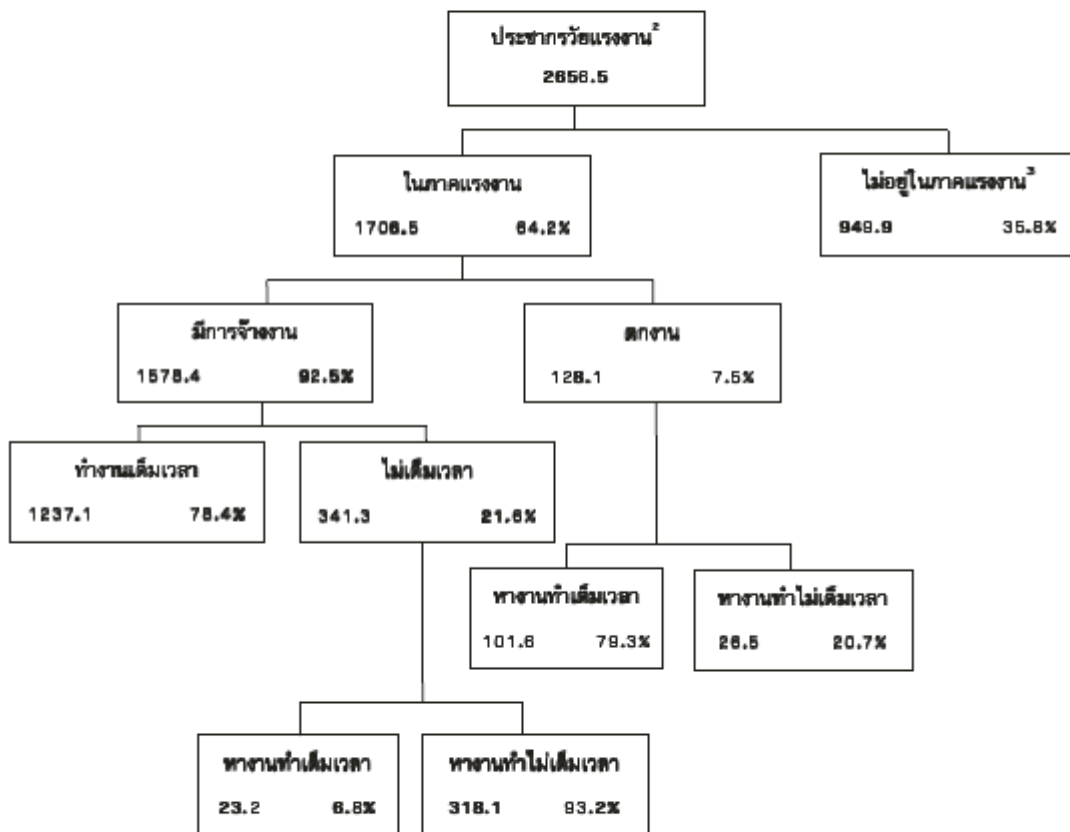
.....

.....

แรงงาน

แผนภูมิข้างล่างนี้ แสดงโครงสร้างแรงงานของประเทศ หรือประชากรวัยแรงงาน
ประชากรทั้งหมดของประเทศในปี พ.ศ. 2538 ประมาณ 3.4 ล้านคน

โครงสร้างแรงงาน ณ วันที่ 31 มีนาคม 2538 (หน่วยเป็นพันคน)



หมายเหตุ

1. จำนวนประชากรมีหน่วยเป็นพันคน
2. นิยามประชากรวัยแรงงาน คือ ประชากรที่มีอายุระหว่าง 15 ถึง 65 ปี
3. ประชากรไม่อยู่ในภาคแรงงานเป็นกลุ่มที่ไม่ชวนชวนทำงานทำ และ/หรือไม่พร้อมสำหรับงาน

คำถามที่ 1 : แรงงาน

การแบ่งกลุ่มประชากรวัยแรงงานหลัก แบ่งออกเป็น 2 กลุ่ม ตามข้อใด

1. มีการจ้างงานและตกงาน
2. วัยทำงานและไม่ใช่วัยทำงาน
3. ทำงานเต็มเวลาและไม่เต็มเวลา
4. ในภาคแรงงานและไม่อยู่ในภาคแรงงาน

คำถามที่ 2 : แรงงาน

ประชากรในวัยแรงงานที่ไม่อยู่ภาคแรงงานมีเท่าไร (ให้เขียนจำนวนประชากร ไม่ใช่ร้อยละของประชากร)

.....

คำถามที่ 3 : แรงงาน

จากแผนภูมิโครงสร้างแรงงาน ประชากรในตารางข้างล่างนี้ จัดอยู่ในส่วนใดของแผนภูมิ แสดงคำตอบโดยทำเครื่องหมาย x ลงในช่องสี่เหลี่ยมในช่องที่ต้องการ ข้อแรกคือตัวอย่าง

	“ภาคแรงงาน: มีการจ้างงาน”	“ภาคแรงงาน: ตกงาน”	“ไม่อยู่ในภาคแรงงาน”	ไม่อยู่ในกลุ่มใดๆ
พนักงานเสริมไม่เต็มเวลา อายุ 35 ปี	<input checked="" type="checkbox"/>	<input type="checkbox"/>	<input type="checkbox"/>	<input type="checkbox"/>
นักธุรกิจหญิง อายุ 43 ปี ทำงาน 60 ชั่วโมง/สัปดาห์	<input type="checkbox"/>	<input type="checkbox"/>	<input type="checkbox"/>	<input type="checkbox"/>
นักศึกษาเต็มเวลาอายุ 21 ปี	<input type="checkbox"/>	<input type="checkbox"/>	<input type="checkbox"/>	<input type="checkbox"/>
ชาย อายุ 28 ปี เพิ่งขายร้านไป และกำลังหางานทำ	<input type="checkbox"/>	<input type="checkbox"/>	<input type="checkbox"/>	<input type="checkbox"/>
หญิง อายุ 55 ปี ไม่เคยทำงาน หรือไม่ต้องการทำงานนอกบ้าน	<input type="checkbox"/>	<input type="checkbox"/>	<input type="checkbox"/>	<input type="checkbox"/>
คุณย่า อายุ 80 ปี ยังทำงานในร้านขายของที่บ้านตนเอง	<input type="checkbox"/>	<input type="checkbox"/>	<input type="checkbox"/>	<input type="checkbox"/>

คำถามที่ 4 : แรงงาน

สมมติว่ามีการเสนอข้อมูลเกี่ยวกับแรงงานในรูปแผนภูมิต้นไม้แบบเดียวกันทุกๆ ปี

รายการแสดงข้างล่างเป็นลักษณะ 4 อย่าง ของแผนภูมิต้นไม้ ท่านคาดว่าลักษณะของส่วนประกอบในแผนภูมิจะเปลี่ยนไปหรือไม่ในแต่ละปี โดยเขียนวงกลมล้อมรอบข้อมูลว่า “เปลี่ยน” หรือ “ไม่เปลี่ยน” ข้อแรกคือตัวอย่าง

ส่วนประกอบในแผนภูมิต้นไม้	คำตอบ
ข้อความในแต่ละช่อง (เช่น ภายในภาคแรงงาน)	เปลี่ยน / <u>ไม่เปลี่ยน</u>
จำนวนร้อยละ (เช่น 64.2%)	เปลี่ยน / ไม่เปลี่ยน
จำนวนประชากร (เช่น 2656.5)	เปลี่ยน / ไม่เปลี่ยน
หมายเหตุใต้แผนภูมิ	เปลี่ยน / ไม่เปลี่ยน

คำถามที่ 5 : แรงงาน

ข้อมูลโครงสร้างแรงงานที่นำเสนอในรูปแบบภูมิทัศน์ไม้ นั้น สามารถนำเสนอได้หลายวิธี เช่น เขียนบรรยาย ใช้แผนภูมิวงกลม แผนภูมิเส้น หรือตาราง

การที่เลือกนำเสนอด้วยแผนภูมิต้นไม้ อาจเป็นเพราะมีประโยชน์ในการแสดงถึงอะไร

1. การเปลี่ยนแปลงเมื่อเวลาเปลี่ยนไป
2. ขนาดของประชากรรวมของประเทศ
3. ประเภทที่มีอยู่แต่ละกลุ่ม
4. ขนาดของแต่ละกลุ่ม

ป้ายประกาศในซูเปอร์มาร์เก็ต

การแจ้งเตือนการแพ้ถั่วลิสง

ขนมปังกรอบไส้ครีมมะนาว

วันที่แจ้งเตือน : 4 กุมภาพันธ์

ชื่อผู้ผลิต: บริษัท ฟาइनฟู๊ดส์ จำกัด

ข้อมูลผลิตภัณฑ์: ขนมปังกรอบไส้ครีมมะนาว 125 กรัม
(ควรบริโภคก่อน 18 มิถุนายน และ ควรบริโภคก่อน 1 กรกฎาคม)

รายละเอียด: ขนมปังกรอบบางอย่างในรุ่นการผลิตเหล่านี้ อาจมีชิ้นส่วนของถั่วลิสงผสมอยู่ แต่ไม่แจ้งไว้ในรายการส่วนผสม คนที่แพ้ถั่วไม่ควรรับประทานขนมปังกรอบนี้

การปฏิบัติของผู้บริโภค : ถ้าท่านซื้อขนมปังกรอบนี้ไป ท่านสามารถนำมาคืน ณ ที่ที่ท่านซื้อ เพื่อรับเงินคืนได้เต็มจำนวน หรือโทรสอบถามข้อมูลเพิ่มเติมได้ที่ 1800 034 241

คำถามที่ 1 : ป้ายประกาศในซูเปอร์มาร์เก็ต

จุดประสงค์ของป้ายประกาศนี้คืออะไร

1. เพื่อโฆษณาขนมปังกรอบไส้ครีมมะนาว
2. เพื่อบอกประชาชนว่าขนมปังกรอบผลิตเมื่อใด
3. เพื่อเตือนประชาชนเกี่ยวกับขนมปังกรอบ
4. เพื่ออธิบายว่าจะซื้อขนมปังกรอบไส้ครีมมะนาวได้ที่ไหน

คำถามที่ 2 : ป้ายประกาศในซูเปอร์มาร์เก็ต

บริษัทที่ทำขนมปังกรอบชื่อบริษัทอะไร

.....

คำถามที่ 3 : ป้ายประกาศในซูเปอร์มาร์เก็ต

จุดประสงค์ของส่วนที่เป็นรายละเอียดในป้ายประกาศคืออะไร

1. เพื่อโฆษณาขนมปังกรอบชนิดต่างๆ
2. เพื่อแจ้งเรื่องของแถมพิเศษที่มาพร้อมกับขนมปังกรอบ
3. เพื่อบอกส่วนผสมของขนมปังกรอบ
4. เพื่ออธิบายว่ามีอะไรผิดปกติในขนมปังกรอบ

คำถามที่ 4 : ป้ายประกาศในซูเปอร์มาร์เก็ต

นักเรียนจะอย่างไร ถ้านักเรียนซื้อขนมปังกรอบเหล่านี้มาแล้ว

.....

ทำไมจึงทำเช่นนั้น

ให้ใช้ข้อมูลจากเรื่องเพื่อสนับสนุนคำตอบของนักเรียน

.....

.....

คำถามที่ 5 : ป้ายประกาศในซูเปอร์มาร์เก็ต

ทำไมป้ายประกาศจึงมีวันที่ “ควรบริโภคก่อน” อยู่ด้วย

.....

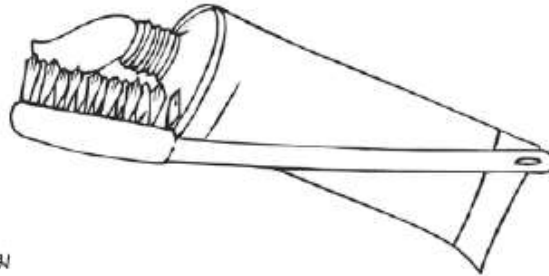
.....

การแปรงฟันของคุณ

ฟันของเราสะอาดมากขึ้นและมากขึ้นเมื่อเราแปรงนานขึ้นและแรงขึ้นใช่หรือไม่?

นักวิจัยชาวอังกฤษบอกว่าไม่ใช่ เขาได้ทดลองหลายๆ ทางเลือก และท้ายที่สุดก็พบวิธีที่สมบูรณ์แบบในการแปรงฟัน การแปรงฟัน 2 นาทีโดยไม่แปรงฟันแรงจนเกินไปให้ผลที่ดีที่สุด ถ้าคุณแปรงฟันแรงคุณกำลังทำร้ายเคลือบฟันและเหงือกโดยไม่ได้ขจัดเศษอาหารหรือคราบหินปูน

เบนท์ ฮันเซน ผู้เชี่ยวชาญเรื่องการแปรงฟัน กล่าวว่าวิธีจับแปรงสีฟันที่ดีที่สุดคือจับให้เหมือนจับปากกา "เริ่มจากมุมหนึ่งและแปรงไปตามฟันจนหมดแล้ว" เธอบอกว่า "อย่าสั่นลิ้นของคุณด้วย! มันสามารถสะสมแบคทีเรียได้มากที่สุดทีเดียว ซึ่งเป็นสาเหตุของกลิ่นปาก"



"การแปรงฟันของคุณ" เป็นบทความ

จงใช้บทความเรื่อง "การแปรงฟันของคุณ" ช่างบนเพื่อตอบคำถามต่อไปนี้

คำถามที่ 1 : การแปรงฟันของคุณ

บทความนี้เกี่ยวกับอะไร

1. วิธีที่ดีที่สุดในการแปรงฟัน
2. แปรงสีฟันชนิดที่ใช้ดีที่สุด
3. ความสำคัญของการมีฟันดี
4. วิธีการแปรงฟันที่แตกต่างกันของแต่ละคน

คำถามที่ 2 : การแปรงฟันของคุณ

นักวิจัยชาวอังกฤษแนะนำว่าอย่างไร

1. แนะนำว่าคุณแปรงฟันได้บ่อยเท่าที่จะแปรงได้
2. แนะนำว่าคุณไม่ควรพยายามแปรงลิ้น
3. แนะนำว่าคุณไม่ควรแปรงฟันแรงเกินไป
4. แนะนำว่าคุณควรแปรงลิ้นให้บ่อยกว่าฟัน

คำถามที่ 3 : การแปร่งฟันของคุณ

ทำไมเราจึงควรแปร่งฟัน ตามคำกล่าวของเบนท์ ฮันเซน

.....

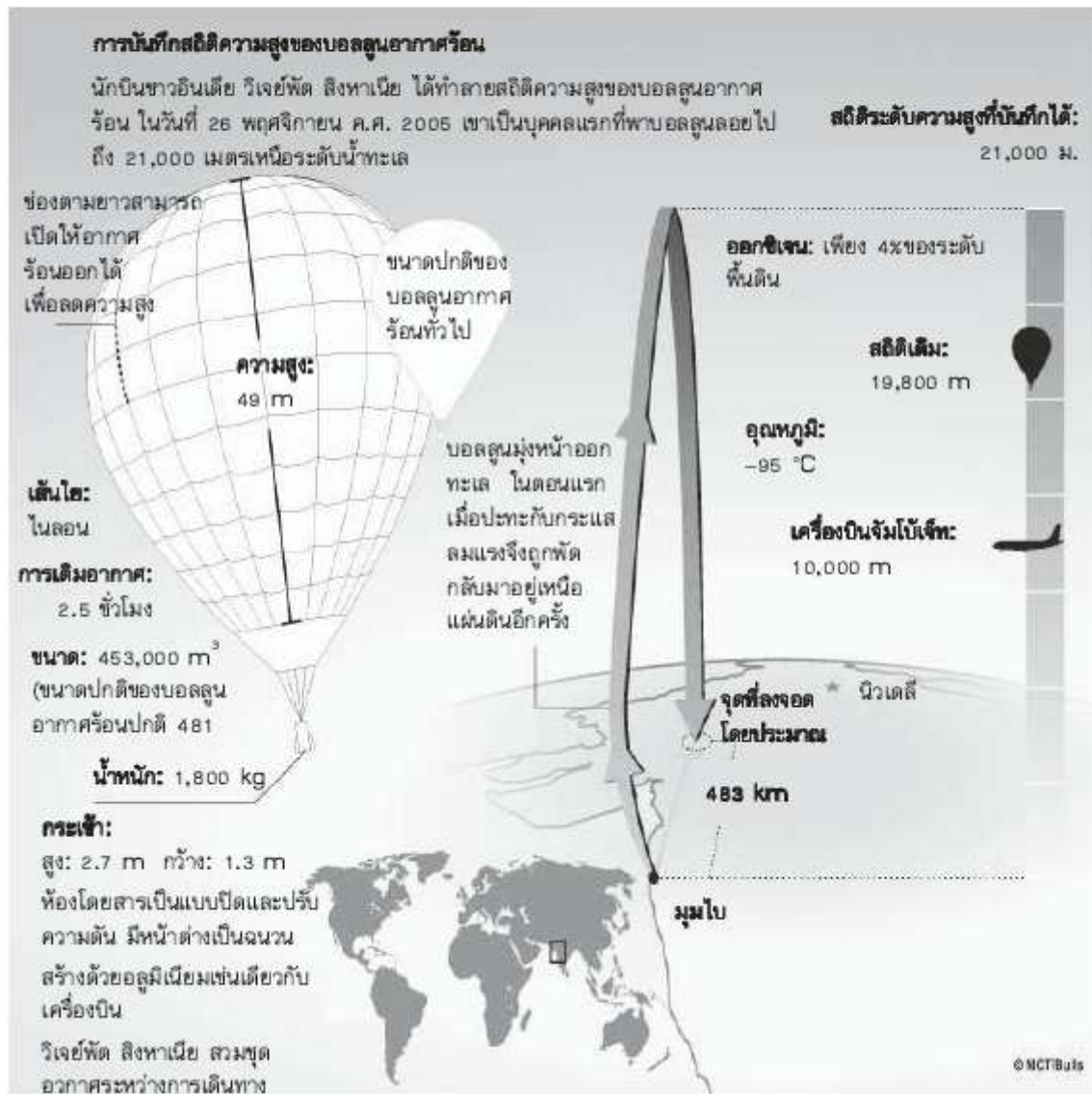
.....

คำถามที่ 4 : การแปร่งฟันของคุณ

ทำไมในเรื่องจึงกล่าวถึงปากกา

1. เพื่อช่วยให้เราเข้าใจว่าควรจับแปร่งฟันอย่างไร
2. เพราะเราเริ่มจากมุมหนึ่งเหมือนกันทั้งปากกาและแปร่งฟัน
3. เพื่อแสดงว่าเราสามารถแปร่งฟันได้หลายๆ วิธี
4. เพราะเราควรแปร่งฟันอย่างจริงจังเช่นเดียวกับการเขียน

บอลูน



คำถามที่ 1 : บอลูน

ใจความสำคัญของเรื่องนี้คืออะไร

1. สิงหาเนียตกอยู่ในอันตรายระหว่างการเดินทางโดยบอลูน
2. สิงหาเนียสร้างสถิติโลกขึ้นใหม่
3. สิงหาเนียเดินทางเหนือทะเลและพื้นดิน
4. บอลูนของสิงหาเนียใหญ่โตมโหฬาร

คำถามที่ 2 : บอลลูน

วิเจย์พัต สิงหาเนียได้ใช้เทคโนโลยีที่มีในยานพาหนะอื่นสองชนิด ยานพาหนะนั้น ได้แก่อะไรบ้าง

1.
2.

คำถามที่ 3 : บอลลูน

การนำภาพเครื่องบินจัมโบ้เจ็ทมาใส่ในเนื้อเรื่องมีจุดประสงค์อะไร

-
-

คำถามที่ 4 : บอลลูน

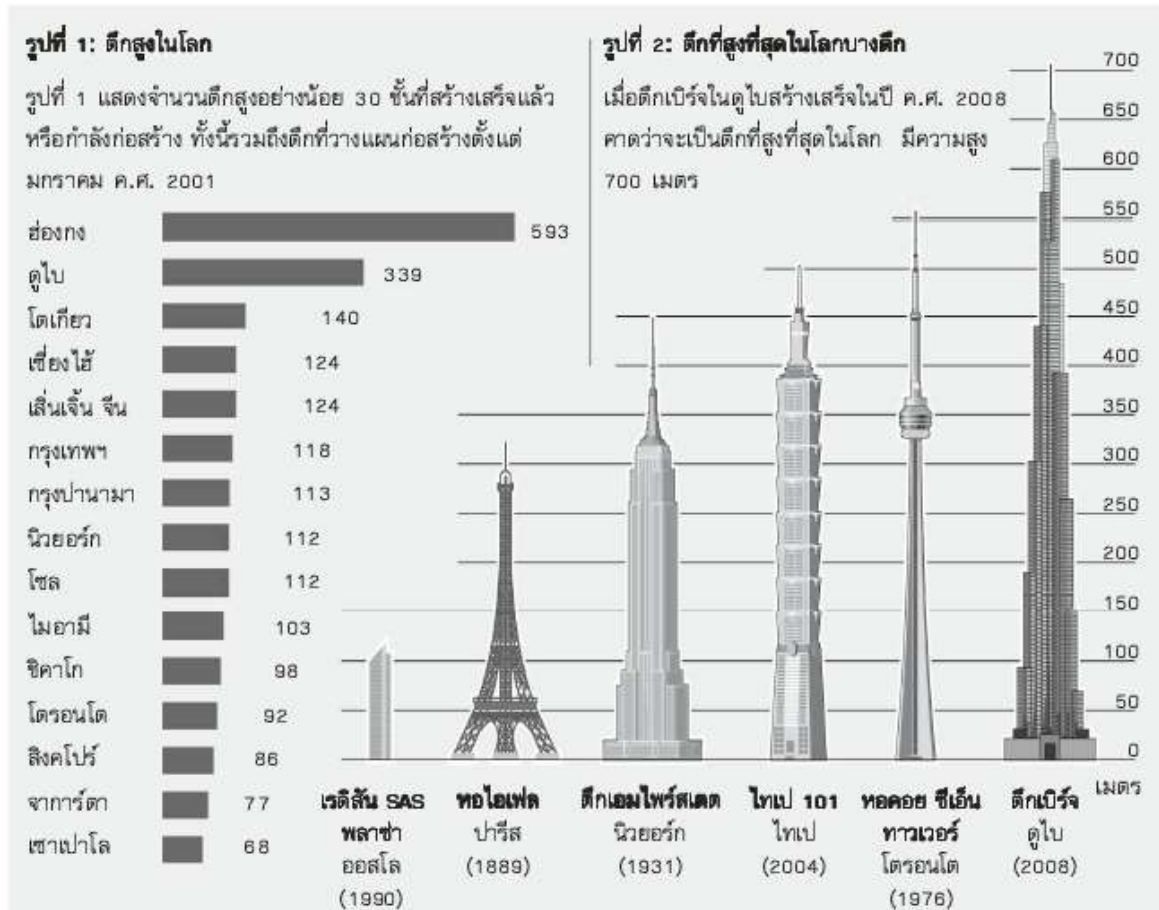


ทำไมภาพนี้จึงแสดงบอลลูนถึงสองลูก

1. เพื่อเปรียบเทียบขนาดบอลลูนของสิงหาเนียก่อนและหลังพองตัว
2. เพื่อเปรียบเทียบขนาดบอลลูนของสิงหาเนียกับบอลลูนอากาศร้อนทั่วไป
3. เพื่อแสดงว่าบอลลูนของสิงหาเนียดูเล็กเมื่อมองจากพื้นดิน
4. เพื่อแสดงว่าบอลลูนของสิงหาเนียเกือบชนกับบอลลูนอื่น

ตึกสูง

“ตึกสูง” เป็นบทความจากนิตยสารของนอร์เวย์ ตีพิมพ์ในปี ค.ศ. 2006



คำถามที่ 1 : ตึกสูง

ขณะที่บทความนี้ตีพิมพ์ในนิตยสาร ตึกใดในรูปที่ 2 สร้างเสร็จแล้วและสูงที่สุด

.....

คำถามที่ 2 : ตึกสูง

รูปที่ 1 ให้ข้อมูลอะไร

1. การเปรียบเทียบความสูงของตึกต่างๆ
2. จำนวนตึกทั้งหมดในเมืองต่างๆ
3. จำนวนตึกที่มีความสูงมากกว่าความสูงระดับหนึ่งของเมืองต่างๆ
4. ข้อมูลเกี่ยวกับรูปแบบของตึกในเมืองต่างๆ

คำถามที่ 3 : ตึกสูง

เรตีสัน SAS พลาซ่าในเมืองออสโล ประเทศนอร์เวย์ สูงเพียง 117 เมตร ทำไมจึงนำตึกนี้มาใส่ในรูปที่ 2

.....

.....

คำถามที่ 4 : ตึกสูง

สมมติว่าข้อมูลเกี่ยวกับตึกสูงถูกนำเสนออีกครั้งในบทความเช่นเดียวกันนี้ในอีก 20 ปีข้างหน้า

ข้อความ 3 ข้อความที่อยู่ข้างล่างคือ ลักษณะของบทความเดิม ให้แสดงว่าลักษณะเหล่านี้มีแนวโน้มจะเปลี่ยนแปลงไปในอีก 20 ปีข้างหน้าหรือไม่ โดยเขียนวงกลมล้อมรอบคำว่า “ใช่” หรือ “ไม่ใช่” ในตารางข้างล่าง

ลักษณะของบทความ	มีแนวโน้มจะเปลี่ยนแปลงไปในอีก 20 ปีข้างหน้า ใช่หรือไม่
เมืองที่แสดงในรูปที่ 1	ใช่ / ไม่ใช่
หัวเรื่องของรูปที่ 2	ใช่ / ไม่ใช่
จำนวนของตึกที่แสดงในรูปที่ 1	ใช่ / ไม่ใช่

คำถามที่ 5 : ตึกสูง

ใช้เรื่อง “ตึกสูง” เพื่อตัดสินใจว่าข้อมูลในแต่ละส่วนของตารางข้างล่างนี้อยู่ในรูปที่ 1 รูปที่ 2 หรือไม่อยู่ทั้ง 2 รูป จงเขียนวงกลมล้อมรอบคำว่า “รูปที่ 1” “รูปที่ 2” หรือ “ไม่อยู่ทั้งสองรูป” เพื่อแสดงคำตอบของนักเรียน

ส่วนของข้อมูล	รูปที่ 1 / รูปที่ 2 / ไม่อยู่ทั้งสองรูป
ชื่อของตึกหนึ่งในช่องกง	รูปที่ 1 / รูปที่ 2 / ไม่อยู่ทั้งสองรูป
ช่วงเวลาที่ตึกเอนไพร์สเดตสร้างเสร็จ	รูปที่ 1 / รูปที่ 2 / ไม่อยู่ทั้งสองรูป
จำนวนตึกที่สร้างไปไตรมาสตั้งแต่ปี 1976	รูปที่ 1 / รูปที่ 2 / ไม่อยู่ทั้งสองรูป

คนช้เหนียวกับทองคำ

นิทานโดย ฮีสป

คนช้เหนียวคนหนึ่งได้ขายทุกสิ่งที่เขามีและซื้อทองคำมาก่อนหนึ่ง ซึ่งเขานำมันไปฝังลงในหลุมที่อยู่ข้างกำแพงเก่า เขาเดินไปดูทุกวัน คนงานของเขาคนหนึ่งสังเกตเห็นว่าคนช้เหนียวไปที่จุดนั้นอยู่เสมอ จึงตัดสินใจจับตามดูความเคลื่อนไหวของเขา ไม่นานคนงานก็พบความลับเรื่องสมบัติที่ซ่อนไว้ และเมื่อขุดลงไปก็พบก้อนทองคำและขโมยมันไป เมื่อคนช้เหนียวมาดูอีกครั้ง ก็พบแต่หลุมว่างเปล่า เขาจึงเริ่มตั้งผมของตัวเองและคร่ำครวญเสียงดังด้วยความเศร้าโศกเสียใจ เพื่อนบ้านเห็นเขาจมอยู่กับความเศร้าโศกและได้รับรู้ถึงสาเหตุ จึงกล่าวว่า "สวดมนต์เถิดอย่าเสียใจไปเลย ท่านก็เอาก้อนหินใส่ไว้ในหลุมสิ แล้วคิดว่าทองคำยังวางอยู่ตรงนั้น มันก็ให้ผลเหมือนกับตอนที่ยังมีทองคำอยู่ อย่างไรก็ตามท่านก็เหมือนกับไม่มีมันอยู่แล้ว เพราะท่านไม่ได้นำมาใช้เลยสักนิด"

คำถามที่ 1 : คนช้เหนียว

อ่านข้อความด้านล่างและใส่ตัวเลขตามลำดับเหตุการณ์ที่เกิดขึ้นในเรื่อง

- คนช้เหนียวตัดสินใจเปลี่ยนเงินที่มีอยู่ทั้งหมดเป็นก้อนทองคำ
- ชายคนหนึ่งขโมยทองคำของคนช้เหนียว
- คนช้เหนียวขุดหลุมแล้วซ่อนสมบัติของเขาไว้ในนั้น
- เพื่อนบ้านของคนช้เหนียวบอกเขาให้หาหินมาวางแทนทองคำ

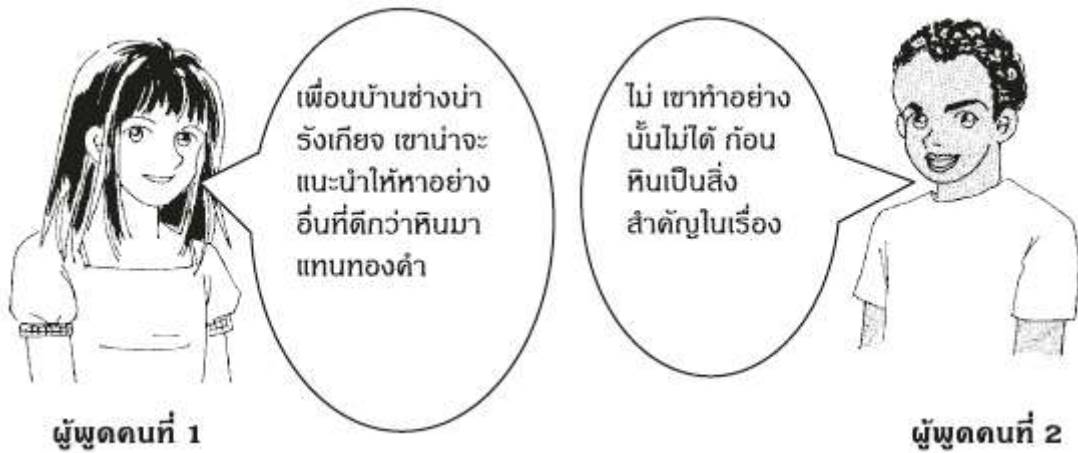
คำถามที่ 2 : คนช้เหนียว

คนช้เหนียวได้ก้อนทองคำอย่างไร

.....

คำถามที่ 3 : คนขี้เหนียว

นี่คือบทสนทนาระหว่างคนสองคนที่ได้อ่านเรื่อง “คนขี้เหนียวกับทองคำ”



ผู้พูดคนที่ 2 จะให้เหตุผลสนับสนุนมุมมองของเขาเองว่าอย่างไร

.....

.....

คำถามที่ 4 : คนขี้เหนียว

ใจความสำคัญของเรื่องนี่คืออะไร

1. อย่าเก็บสะสมของมีค่าที่สามารถถูกขโมยได้
2. การไว้ใจคนอื่นถือเป็นข้อผิดพลาด
3. การไม่ได้ใช้ของที่มีก็เหมือนกับว่าไม่มีของสิ่งนั้น
4. อย่าเสียใจกับสิ่งที่เปลี่ยนแปลงไม่ได้

ปลายทางที่บัวโนส ไอเรส

และแล้วเครื่องบินขนส่งไปรษณีย์ก็สามลำจากปาตาโกเนีย¹ ชิลี และปารากวัย ได้เดินทางกลับมาจากทางใต้ ตะวันตก และเหนือสู่บัวโนส ไอเรส ซึ่งที่นั่นกำลังรอคอยสินค้าจากเครื่องบินเหล่านั้น เพื่อเครื่องบินที่จะเดินทางไปยุโรปสามารถออกเดินทางประมาณเที่ยงคืนได้

นักบินสามคนที่อยู่เบื้องหลังแผนควบคุมที่ใหญ่ราวกับเรือบรรทุกสินค้าตกอยู่ในความมืด และ จดจ่ออยู่กับเที่ยวบินของเขาที่กำลังเคลื่อนตัวเข้าสู่เมืองใหญ่ ซึ่งจะต้องลดความสูงลงอย่างช้าๆ เพื่อออกจากท้องฟ้าที่มีพายุหรือเจ็บบบ รวากับคนประหลาดกำลังลงมาจากภูเขา

รีวีแอร์ ผู้รับผิดชอบการปฏิบัติการทั้งหมด เดินไปมาในที่นั่งจอดของบัวโนส ไอเรส เขายังคงเสียบจนกว่าเครื่องบินทั้งสามลำ จะมาถึง ตลอดทั้งวันเขารู้สึกเหมือนมีกลางร้าย เวลาผ่านไปนาที่แล้วนาที่เล่าจนกระทั่งมีโทรเลขมาถึง รีวีแอร์รู้สึกว่าเขาได้ช่วงชิงบางสิ่งจากโชคชะตาซึ่งค่อยๆ ลดสิ่งที่เขาไม่รู้ลงทีละน้อย และดึงลูกเรือของเขาให้พ้นจากความมืดมาสู่ฝั่ง

ลูกเรือคนหนึ่งติดต่อกับรีวีแอร์ด้วยข้อความทางวิทยุ:

ไปรษณีย์ภัณฑ์จากชิลีรายงานว่าเราสามารถมองเห็นแสงสว่างจากบัวโนส ไอเรสแล้ว
เฮียมมาก

ไม่นานนัก รีวีแอร์ก็ได้ยินเสียงเครื่องบิน ความมืดได้ยอมปล่อยให้หนึ่งในนั้นออกมาแล้ว ดังทะเลที่มีคลื่นขึ้นๆ ลงๆ และสิ่งลับๆ ต้องยอมคืนสมบัติที่มันโยนเล่นไปมาเป็นเวลานานให้กับชายหาด ในไม่ช้ามันคงจะคืนอีกสองคนที่เหลือกลับมา

ในวันนี้การทำงานก็จบสิ้นลง เจ้าหน้าที่ภาคพื้นดินที่เหนื่อยล้าคงจะกลับไปนอนและมีเจ้าหน้าที่ชุดใหม่ที่สดชื่นมาทำหน้าที่แทน มีเพียงแต่รีวีแอร์เท่านั้นที่ไม่ได้พัก: จากนั้นก็มาถึงคราวของไปรษณีย์ภัณฑ์จากยุโรปที่จะเข้ามาเพิ่มความมืดให้เขามาก และมันจะเป็นอย่างนี้ไปตลอด และตลอดไป

Antoine de Saint-Exupéry. *Vol de Nuit*. © Éditions Gallimard

¹ พื้นที่ทางตอนใต้ของชิลีและอาร์เจนตินา

“ปลายทางที่บัวโนส ไอเรส” เป็นส่วนที่ตัดมาจากนวนิยายที่เขียนในปี 1931

นวนิยายนี้ใช้ประสบการณ์การเป็นนักบินขนส่งสินค้าในทวีปอเมริกาใต้ของผู้แต่งเป็นพื้นฐาน

ใช้ส่วนที่ตัดออกมาเพื่อตอบคำถามต่อไปนี้

คำถามที่ 1 : ปลายทางที่บัวโนส ไอเรส

เรื่องนี้เกิดขึ้นในช่วงเวลาใดของวัน ให้ใช้เนื้อเรื่องเพื่อสนับสนุนคำตอบของนักเรียน

.....

.....

คำถามที่ 2 : ปลายทางที่บัวโนส ไอเรส

รีวิแอร์รู้สึกอย่างไรกับงานของเขา ให้ใช้ข้อมูลจากเนื้อเรื่องเพื่อให้เหตุผลสนับสนุนคำตอบของนักเรียน

.....

.....

คำถามที่ 3 : ปลายทางที่บัวโนส ไอเรส

“ปลายทางที่บัวโนส ไอเรส” ถูกเขียนขึ้นในปี ค.ศ.1931 นักเรียนคิดว่าปัจจุบันนี้ ความกังวลของรีวิแอร์ยังเป็นเหมือนเดิมใช้หรือไม่ ให้เหตุผลอธิบายคำตอบของนักเรียน

.....

.....

คำถามที่ 4 : ปลายทางที่บัวโนส ไอเรส

เกิดอะไรขึ้นกับตัวละครหลักในเรื่องนี้

1. เขามีเรื่องประหลาดใจที่ไม่น่ายินดี
2. เขาตัดสินใจที่จะเปลี่ยนงาน
3. เขารอบบางอย่างที่จะเกิดขึ้น
4. เขาเรียนรู้ที่จะฟังผู้อื่น

คำถามที่ 5 : ปลายทางที่บัวโนส ไอเรส

จากย่อหน้าที่สองจากท้าย (“ไม่นานนัก...”) ความมืดและทะเลเหมือนกันในลักษณะใด

1. ทั้งสองซ่อนสิ่งที่มีอยู่ในตัวมัน
2. ทั้งสองเสียงดัง
3. ทั้งสองถูกสยบด้วยมนุษย์
4. ทั้งสองเป็นอันตรายต่อมนุษย์
5. ทั้งสองเงียบสงบ

คำถามที่ 6 : ปลายทางที่บัวโนส ไอเรส

คำคู่ใดต่อไปนี้อธิบายถึงภาวะจิตใจของรีวิแอร์ในเรื่องได้ดีที่สุด

1. ตื่นตระหนกและกระวนกระวาย
2. ตื่นเต้นและกระสับกระส่าย
3. โกรธและหงุดหงิด
4. กังวลและหนักใจ
5. ผ่อนคลายและมั่นใจ

การทำงานทางไกล

วิถีทางแห่งอนาคต

ลองจินตนาการว่ามันจะวิเศษอย่างไรถ้าสามารถ “ทำงานทางไกล”¹ บนสายด่วนอิเล็กทรอนิกส์ที่งานทุกอย่างของคุณทำผ่านคอมพิวเตอร์หรือโทรศัพท์! ไม่ต้องขึ้นไปเบียดในรถเมล์หรือรถไฟที่คนแน่นอีกต่อไป หรือไม่ต้องเสียเวลาเป็นชั่วโมงๆ เดินทางไป-กลับที่ทำงาน คุณสามารถทำงานที่ไหนก็ได้ที่ต้องการ ลองคิดถึงโอกาสทั้งหมดในการทำงานที่อาจจะเกิดขึ้น!

มาลี

ความหายนะจากการปฏิบัติ

การลดชั่วโมงการเดินทางและลดการใช้พลังงานที่เกี่ยวข้อง เห็นได้ชัดว่าเป็นความคิดที่ดี แต่เป้าหมายนั้นควรทำให้สำเร็จโดยการพัฒนาการขนส่งมวลชน หรือการรับประกันว่าที่ทำงานจะตั้งอยู่ใกล้กับที่อยู่อาศัยของผู้คน ความคิดที่ทะเยอทะยานว่าการทำงานทางไกลควรเป็นส่วนหนึ่งในวิถีชีวิตมีแต่จะนำพาผู้คนให้หมกมุ่นอยู่กับตัวเองมากขึ้นเท่านั้น เราต้องการจริงๆ หรือที่จะให้ความรู้สึกเป็นส่วนหนึ่งของชุมชนหดหายไป

สุชาติ

¹ “การทำงานทางไกล” (Telecommuting) เป็นคำที่บัญญัติขึ้นโดย แจ็ค นิลส์ ในช่วงต้นของทศวรรษที่ 1970 เพื่อบอกถึงสถานการณ์ที่ผู้ทำงานด้วยคอมพิวเตอร์ห่างจากสำนักงานกลาง (เช่น ที่บ้าน) และส่งข้อมูลและเอกสารไปยังสำนักงานกลางทางสายโทรศัพท์

คำถามที่ 1 : การทำงานทางไกล

ความสัมพันธ์ระหว่าง “วิถีทางแห่งอนาคต” กับ “ความหายนะจากการปฏิบัติ” คืออะไร

1. เขาใช้ข้อโต้แย้งที่ต่างกันเพื่อลงข้อสรุปรวมเดียวกัน
2. เขาเขียนในรูปแบบที่เหมือนกันแต่เป็นหัวข้อที่แตกต่างกันโดยสิ้นเชิง
3. เขาแสดงมุมมองทั่วไปที่เหมือนกัน แต่ไปถึงช่วงสรุปที่ต่างกัน
4. เขาแสดงมุมมองที่ขัดแย้งกันในหัวข้อเดียวกัน

คำถามที่ 2 : การทำงานทางไกล

งานหนึ่งอย่างที่อาจจะมีปัญหาถ้าทำงานทางไกล คืองานอะไร จงให้เหตุผลประกอบคำตอบของนักเรียน

.....

.....

คำถามที่ 3 : การทำงานทางไกล

ข้อความใดที่ทั้งมาลีและสุชาติน่าจะมีความเห็นตรงกัน

1. ผู้คนควรได้รับอนุญาตให้ทำงานที่ชั่วโมงก็ได้ตามที่พวกเขาต้องการ
2. ไม่ใช่ความคิดที่ดีที่คนใช้เวลามากเกินไปในการเดินทางไปทำงาน
3. การทำงานทางไกลอาจไม่เหมาะกับทุกคน
4. การสร้างความสัมพันธ์ทางสังคมเป็นส่วนสำคัญที่สุดของการทำงาน